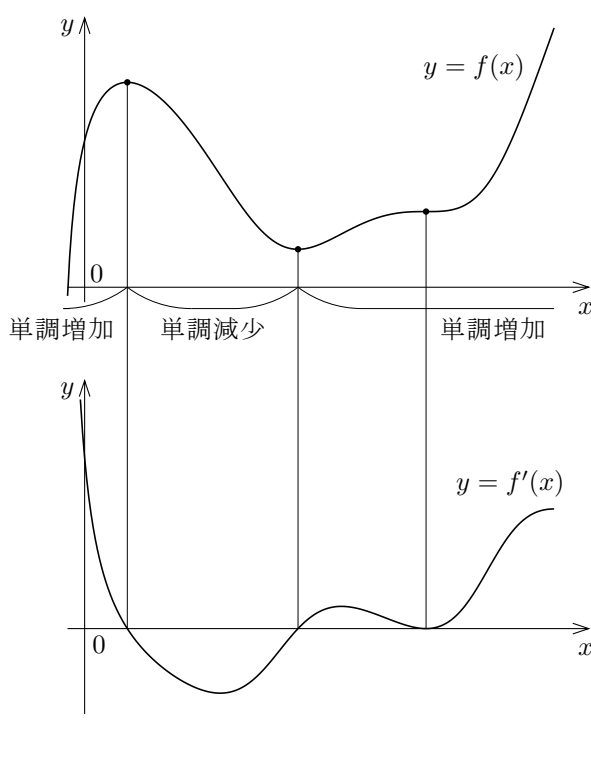


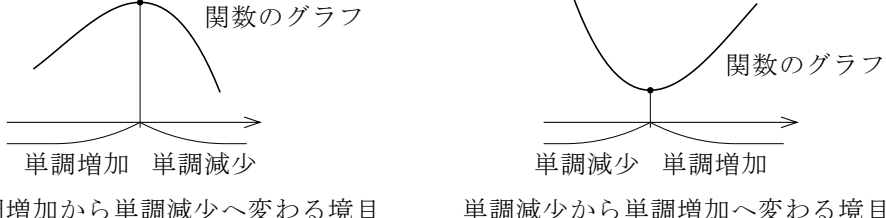
## §5.4 関数の値の増減

微分可能な関数  $f$  とその導関数  $f'$  について、 $xy$  座標平面における  $y=f(x)$  のグラフと  $y=f'(x)$  のグラフとを縦に揃えて描くと例えば右図のようになります。

微分可能な関数  $f$  が実数  $p$  において極値をとるならば  $f'(p)=0$  です (定理 5.1) から、 $f$  が実数  $p$  において極値をとるような  $p$  を探すために、 $f'(p)=0$  となる実数  $p$  を求めます。そして更に、極大値をとるか極小値をとるかを判定するために次の定理を用います (その証明は省略します)。



**定理** 連続な関数は、独立変数の値を大きくしていくとき、  
単調増加から単調減少へ変わる境目の実数において極大値をとり、  
単調減少から単調増加へ変わる境目の実数において極小値をとる。



**例解** 実数全体において微分可能な関数  $f$  について、

$$x < 7 \text{ のとき } f'(x) < 0, \quad x > 7 \text{ のとき } f'(x) > 0$$

とします。区間  $(-\infty, 7]$  の中の 7 以外の各実数  $x$  について  $f'(x) < 0$  なので、定理 5.3.1 より、 $f$  は区間  $(-\infty, 7]$  において単調減少です。また、区間  $[7, \infty)$  の中の 7 以外の各実数  $x$  について  $f'(x) > 0$  なので、 $f$  は区間  $[7, \infty)$  において単調増加です。境目の実数 7 は両方の区間に属することに注意して下さい。 終

**例題** 区間  $(0, \infty)$  を定義域とする関数  $g$  を  $g(x) = \frac{x}{2} - \ln x$  ( $x > 0$ ) と定める。関数  $g$  の値の増減の様子及び  $g$  の極値を調べる。

【解説】 区間  $(0, \infty)$  の各実数  $x$  について

$$g'(x) = \frac{d}{dx} \left( \frac{x}{2} - \ln x \right) = \frac{1}{2} - \frac{1}{x}$$

$g'(x) = 0$  とすると、 $\frac{1}{2} - \frac{1}{x} = 0$  なので  $x = 2$  .

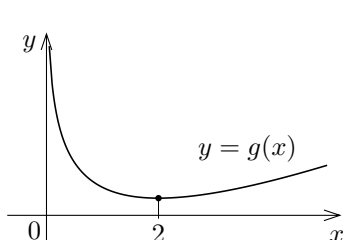
$0 < x < 2$  のときと  $x > 2$  のときとに分けて

$g'(x)$  の値の符号を調べる。

$$0 < x < 2 \text{ のとき, } \frac{1}{x} > \frac{1}{2} \text{ なので } g'(x) = \frac{1}{2} - \frac{1}{x} < 0 .$$

$$x > 2 \text{ のとき, } \frac{1}{x} < \frac{1}{2} \text{ なので } g'(x) = \frac{1}{2} - \frac{1}{x} > 0 .$$

従って、関数  $g$  は、区間  $(0, 2]$  において単調減少であり、区間  $[2, \infty)$  において単調増加である。  $g(2) = 1 - \ln 2$  なので、 $g$  は 2 において極小値  $1 - \ln 2$  をとる；極大値はとらない。 終



**問題 5.4.1** 区間  $[0, \infty)$  を定義域とする関数  $f$  を  $f(x) = 9x - 2\sqrt{x^3}$  ( $x \geq 0$ ) と定めます。関数  $f$  の値の増減の様子及び  $f$  の極値を調べなさい。

**例題** 実数全体を定義域とする関数  $\varphi$  を  $\varphi(x) = 5x - e^x$  と定める。関数  $\varphi$  の値の増減の様子及び  $\varphi$  の極値を調べる。

【解答】

$$\varphi'(x) = \frac{d}{dx}(5x - e^x) = 5 - e^x$$

$\varphi'(x) = 0$  とすると、 $5 - e^x = 0$  なので  $e^x = 5$ 、従って  $x = \ln 5$  .

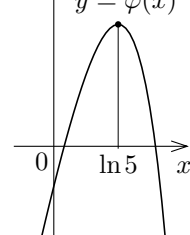
$$x < \ln 5 \text{ のとき, } e^x < e^{\ln 5} = 5 \text{ なので } \varphi'(x) = 5 - e^x > 0 .$$

$$x > \ln 5 \text{ のとき, } e^x > e^{\ln 5} = 5 \text{ なので } \varphi'(x) = 5 - e^x < 0 .$$

従って、関数  $\varphi$  は、区間  $(-\infty, \ln 5]$  において単調増加であり、区間  $[\ln 5, \infty)$  において単調減少である。

$$\varphi(\ln 5) = 5 \ln 5 - e^{\ln 5} = 5 \ln 5 - 5$$

$\varphi$  は、 $\ln 5$  において極大値  $5 \ln 5 - 5$  をとり、極小値はとらない。



**問題 5.4.2** 区間  $(0, \infty)$  を定義域とする関数  $\psi$  を  $\psi(x) = x \ln x - 3x$  ( $x > 0$ ) と定めます。関数  $\psi$  の値の増減の様子及び  $\psi$  の極値を調べなさい。

関数の値の増減及び極値を調べるために、増減表といわれる表を作ることがあります。

**例解** 実数全体を定義域とする関数  $f$  を  $f(x) = \frac{1}{3}x^3 - 3x^2 + 5x$  と定める。関数  $f$  の値の増減の様子及び  $f$  の極値を調べます。

$$f'(x) = \frac{d}{dx} \left( \frac{1}{3}x^3 - 3x^2 + 5x \right) = x^2 - 6x + 5 = (x-1)(x-5)$$

$f'(x) = 0$  とすると、 $(x-1)(x-5) = 0$  なので  $x = 1, 5$  .

$$x < 1 \text{ のとき, } x-1 < 0, \quad x-5 < 0 \text{ なので } \varphi'(x) = (x-1)(x-5) > 0 ;$$

$$1 < x < 5 \text{ のとき, } x-1 > 0, \quad x-5 < 0 \text{ なので } \varphi'(x) = (x-1)(x-5) < 0 ;$$

$$x > 5 \text{ のとき, } x-1 > 0, \quad x-5 > 0 \text{ なので } \varphi'(x) = (x-1)(x-5) > 0 .$$

更に、 $f(1) = \frac{7}{3}$ 、 $f(5) = -\frac{25}{3}$  .  $f'(x)$  の値の符号と  $f(x)$  の値の増減の状態とを書き込んだ次のような表を増減表といいます：ここで、右上向きの矢印  $\nearrow$  は単調増加の状態を表し、右下向きの矢印  $\searrow$  は単調減少の状態を表します。

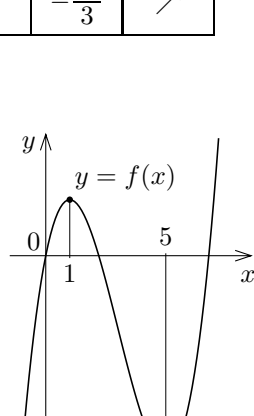
$x$ の値	$x < 1$	$x = 1$	$1 < x < 5$	$x = 5$	$5 < x$
$x-1$ の値の符号	-	0	+	+	+
$x-5$ の値の符号	-	-	-	0	+
$f'(x) = (x-1)(x-5)$ の値の符号	+	0	-	0	+
$f(x) = \frac{1}{3}x^3 - 3x^2 + 5x$ の値	$\nearrow$	$\frac{7}{3}$	$\searrow$	$-\frac{25}{3}$	$\nearrow$

この増減表を次のように略します。

$x$	...	1	...	5	...
$x-1$	-	0	+	+	+
$x-5$	-	-	-	0	+
$f'(x) = (x-1)(x-5)$	+	0	-	0	+
$f(x) = \frac{1}{3}x^3 - 3x^2 + 5x$	$\nearrow$	$\frac{7}{3}$	$\searrow$	$-\frac{25}{3}$	$\nearrow$

増減表から次のことが分かります：関数  $f$  は、区間  $(-\infty, 1]$  において単調増加であり、区間  $[1, 5]$  において単調減少であり、区間  $[5, \infty)$  において単調増加である；

また、 $f$  は、1 において極大値  $\frac{7}{3}$  をとり、5 において極小値  $-\frac{25}{3}$  をとる。 終



**問題 5.4.3** 実数全体を定義域とする関数  $\varphi$  を  $\varphi(x) = x^3 - 5x^2 + 3x$  と定めます。関数  $\varphi$  の値の増減の様子及び  $\varphi$  の極値を調べなさい。

**例題** 区間  $(0, \infty)$  を定義域とする関数  $\psi$  を  $\psi(x) = 5x - \frac{1}{2}x^2 - 4 \ln x$  ( $x > 0$ ) と定める。関数  $\psi$  の値の増減の様子及び  $\psi$  の極値を調べる。

【解答】 区間  $(0, \infty)$  の各実数  $x$  について

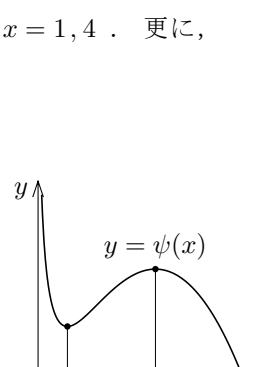
$$\psi'(x) = \frac{d}{dx} \left( 5x - \frac{1}{2}x^2 - 4 \ln x \right) = 5 - x - \frac{4}{x} = -\frac{x^2 - 5x + 4}{x} = -\frac{(x-1)(x-4)}{x}$$

$\psi'(x) = 0$  とすると、 $-\frac{(x-1)(x-4)}{x} = 0$  ( $x > 0$ ) なので  $x = 1, 4$  . 更に、

$$\psi(1) = \frac{9}{2}, \quad \psi(4) = 12 - 4 \ln 4$$

増減表は次のようになる。

$x$	0	...	1	...	4	...
$x-1$	-	-	0	+	+	+
$x-4$	-	-	-	-	0	+
$\psi'(x) = -\frac{(x-1)(x-4)}{x}$	値なし	-	0	+	0	-
$\psi(x) = 5x - \frac{1}{2}x^2 - 4 \ln x$	値なし	$\searrow$	$\frac{9}{2}$	$\nearrow$	$12 - 4 \ln 4$	$\searrow$



この増減表より、関数  $\psi$  は、区間  $(0, 1]$  において単調減少であり、区間  $[1, 4]$  において単調増加であり、区間  $[4, \infty)$  において単調減少である。また、 $\psi$  は、1 において極小値  $\frac{9}{2}$  をとり、4 において極大値  $12 - 4 \ln 4$  をとる。 終

**問題 5.4.4** 区間  $(0, \infty)$  を定義域とする関数  $g$  を  $g(x) = \frac{3}{x} + 4 \ln x - x$  ( $x > 0$ ) と定めます。関数  $g$  の値の増減の様子及び  $g$  の極値を調べなさい。

5) 各実数  $u, v$  について、 $0 < u < v$  ならば  $\frac{1}{u} > \frac{1}{v}$  .

6) 指数関数  $e^x$  は単調増加なので、各実数  $u, v$  について、 $u < v$  ならば  $e^u < e^v$  .